

Итоговая работа по географии за курс «Природа России»- 8 класс

Часть 1

При выполнении заданий этой части из четырех предложенных вам вариантов выберите один верный. В бланке ответов № 1 справа от номера выполняемого вами задания (А1-А18) поставьте знак «х» в клеточку, номер которой соответствует номеру выбранного вами ответа.

- А1.** Крайней северной материковой точкой территории России является ?
- 1) Мыс Дежнева
 - 2) Мыс Флигели
 - 3) Мыс Челюскин
 - 4) Мыс Канин Нос

- А2.** Какое из государств имеет самую протяженную сухопутную границу с Россией?
- 1) Китай
 - 2) Монголия
 - 3) Казахстан
 - 4) Украина

- А3.** В пределах какой из перечисленных территорий расположены тундрово-глеевые почвы?
- 1) Северо –Сибирская низменность
 - 2) Среднерусская возвышенность
 - 3) Енисейский кряж
 - 4) Барабинская низменность

- А4.** Многолетняя мерзлота оказывает влияние на хозяйственную деятельность человека: разработку полезных ископаемых, прокладку дорог, строительство. В каком из перечисленных регионов России необходимо учитывать последствия оттаивания многолетней мерзлоты вследствие потепления климата?
- 1) Чувашская республика
 - 2) Тульская область
 - 3) Красноярский край
 - 4) Челябинская область

- А5.** Укажите море России , являющееся самым мелким.
- 1) Баренцево
 - 2) Балтийское

- 3) Азовское
- 4) Черное

А6. Определите, к традиционным занятиям, какого из перечисленных народов России относятся охота, морской зверобойный промысел и рыболовство.

- 1) чувашы и марийцы
- 2) алеуты и коряки
- 3) буряты и тувинцы
- 4) осетины и кабардинцы

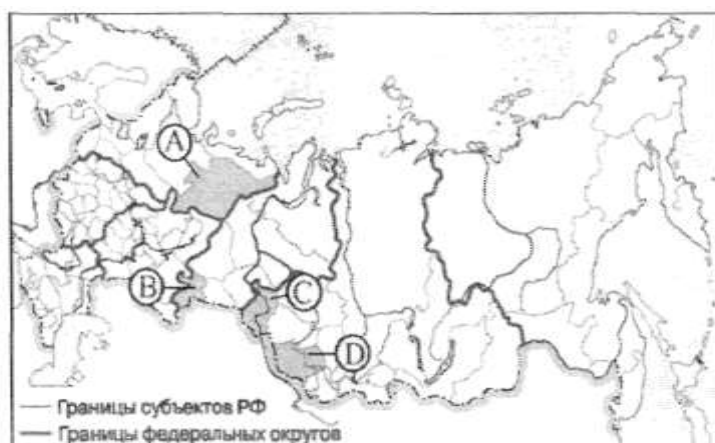
А7. Резко-континентальный климат действует над территорией ...

- 1) Урала
- 2) Восточной Сибири
- 3) Побережья Тихого океана
- 4) Кавказа

А8. Выберите самую заболоченную равнину России.

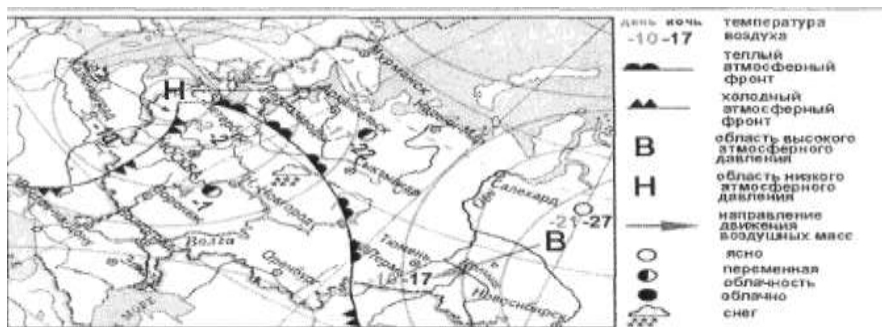
- 1) Мещерская низменность
- 2) Западно-Сибирская равнина
- 3) Северо-Сибирская низменность
- 4) Прикаспийская низменность

А9. Какой из регионов, обозначенных буквами на карте России, находится в Предуралье?



- 1) А
- 2) В
- 3) С
- 4) D

Задания А10 и А11 выполняются с использованием, приведенной ниже карты погоды.



A10. Какой из перечисленных ниже городов, показанных на карте, находится в зоне действия циклона?

- 1) Тюмень
- 2) Салехард
- 3) Новосибирск
- 4) Петрозаводск

A11. Карта погоды составлена на 7 февраля. В каком из перечисленных городов, показанных на карте, на следующий день вероятно существенное потепление?

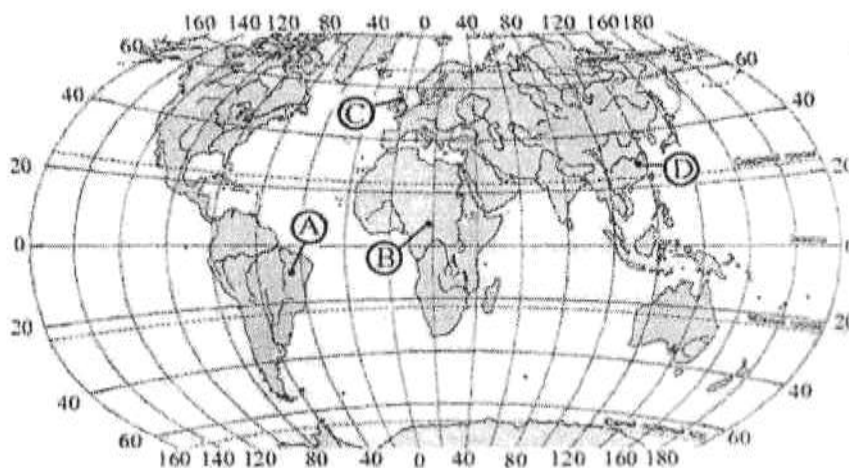
- 1) Москва
- 2) Новосибирск
- 3) Пермь
- 4) Салехард

A12. Выберите верную характеристику озера Байкал.

- 1) Расположено озеро в западной части России. Имеет ледниково-тектоническую котловину. Река Нева берёт начало в этом озере.
- 2) Расположено в восточной части России. Имеет котловину тектонического происхождения. Река Ангара берет начало в этом озере. Глубина – 1620 метров.
- 3) Расположено в европейской части России. Бессточное, соленое. В озере ведется добыча поваренной соли.
- 4) Расположено в восточной части на границе Китая и России. Неглубокое, заболоченное.

Задание А13 выполняется с использованием карты, приведенной ниже.

А13. Какой из показанных на карте мира пунктов, обозначенных буквами, находится примерно в тех же широтах, что и большая часть России?



- 1) А
- 2) В
- 3) С
- 4) D

А14. На территории России находится полюс холода Северного полушария. Это :

- 1) г.Уэлен
- 2) г.Тикси
- 3) г.Диксон
- 4) г.Оймякон

А15. Кто из русских ученых назвал почвы «зеркалом ландшафта»?

- 1) Н.И. Вавилов
- 2) В.И.Вернадский
- 3) В.В.Докучаев
- 4) Б.П. Алисов

А16. В каком регионе Росси находится город Хабаровск?

- 1) Дальний Восток
- 2) Западная Сибирь

- 3) Поволжье
- 4) Восточная Сибирь

A17. Выберите группу животных , распространенных в сибирской тайге?

- 1) бурый медведь, лось, белка, заяц, волк
- 2) олени, песцы, лемминги, белая сова
- 3) сурки, суслики, хомяки, полевки
- 4) белки, дрофы, бобры, змеи.

A18. Какой из городов находится южнее?

- 1) Оренбург
- 2) Самара
- 3) Казань
- 4) Иваново

Часть 2

Задания В1-В9 требуют ответа в виде одного-двух слов, последовательности букв или цифр, которые следует записать в бланк ответов № 1 справа от номера соответствующего задания, начиная с первой клеточки. При переносе ответа на бланк следует указать только эту последовательность, без запятых, пробелом и прочих символов. Каждый символ пишете в отдельной клеточке в соответствии с приведенными образцами.

В1. Какие моря омывают Россию на востоке?

- 1) Карское море
- 2) Каспийское море
- 3) Берингово море
- 4) Балтийское море
- 5) Охотское море
- 6) Восточно-Сибирское море
- 7) Японское море

При выполнении задания В2 установите соответствие и впишите ответ

В2. Негативное влияние на состояние окружающей среды оказывает:

- А. Сооружение высоких труб на ТЭС.
- Б. Перевод автомобильного транспорта на газ.
- В. Содержание редких животных в зоопарке.
- Г. Осушение болот.

Запишите в таблицу цифры, соответствующие каждому утверждению. Истинные утверждения обозначьте цифрой 1, ложные - 0. **Перенесите получившуюся последовательность цифр в бланк ответов без пробелов и знаков препинания.**

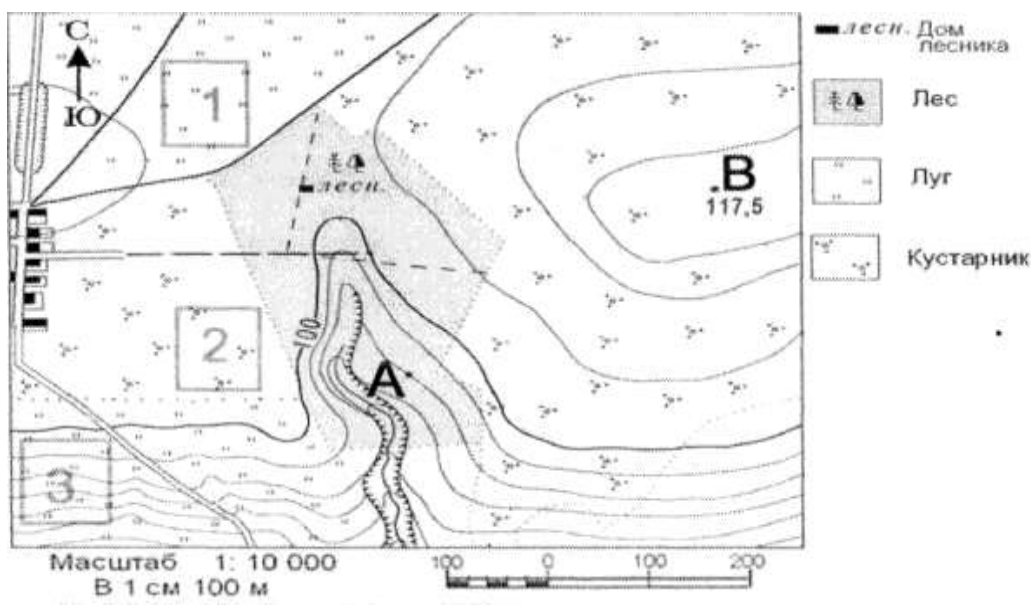
Ответ:

А	Б	В	Г

В3. Определите, какой город имеет географические координаты 56° с.ш. и 38° в.д.

Задания В4 ,В5 и С2 выполняются с использованием приведенной ниже карты.

Ознакомьтесь с картой, показанной на рисунке.



Горизонтالي проведены через 5 метров

В4. Определите по карте расстояние на местности по прямой от дома лесника до точки В. Полученный результат округлите до десятков метров. Ответ запишите в виде числа.

В5. Определите по карте, в каком направлении от дома лесника находится точка А.

В6. РАСПОЛОЖИТЕ РЕГИОНЫ России, по порядку сменяющие друг друга ,в направлении с запада на восток.

Запишите получившуюся последовательность букв.

- А) Западная Сибирь
- Б) Восточно-Европейская равнина
- В) Северный Кавказ
- Г) Урал
- Д) Дальний Восток
- Е) Восточная Сибирь

В7. Туристические фирмы разных регионов России разработали слоганы (рекламные лозунги) для привлечения туристов в свои регионы. Установите соответствие между слоганом и регионом. **Запишите в таблицу цифры, соответствующие выбранным ответам**

Слоганы	Регионы
А) Посети минералогический музей под открытым небом.	1) Республика Алтай
Б) Посмотри, на бьющие из под земли фонтаны горячей воды (долина гейзеров)	2) Чукотский АО
	3) Камчатский край
	4) Урал

Ответ:

А	Б

В8. Выберите субъекты РФ , которые находятся на Дальнем Востоке. **Запишите получившуюся последовательность букв.**

- А) Магаданская область
- Б) Московская область
- В) Камчатский край
- Г) Чувашская Республика
- Д) Красноярский край
- Е) Сахалинская область

В9. Определите регион России по его краткому описанию.

В этой республике, через территорию которой протекает река Волга, коренное население составляет 70%. Несмотря на то, что её территория, расположена в главной полосе расселения, городов-миллионеров в республике нет. Климатические условия позволяют выращивать здесь хмель, имеются значительные посевы сахарной свеклы. Среди отраслей промышленности особо выделяется машиностроительная (электротехника, производство тракторов), химическая промышленность, текстильная, пищевая. В республике действует крупная ГЭС.

Не забудьте перенести все ответы в бланк ответов № 1

Часть 3

Для ответов на задания этой части (С1-С3) используйте бланк ответов № 2. Запишите сначала номер задания (С1, С2 и т.д.), затем развернутый ответ к нему.

С1. От чего нужно охранять почву ? (не менее 2-х причин)

С2. Участники школьной футбольной секции выбирают место для обустройства нового футбольного поля. Оцените, какой из участков, обозначенных на карте цифрами 1, 2 и 3, наиболее подходит для этого. Для обоснования своего ответа приведите два довода. **Обоснованный ответ запишите на отдельном листе или бланке, указав сначала номер задания.**

С3. Каковы особенности климата Западно-Сибирской равнины?

Укажите не менее 2-х причин с пояснениями.